


Item Bank

कक्षा – 3

(Foundational Level)

विषय – पर्यावरण अध्ययन



राज्य शैक्षिक अनुसंधान और प्रशिक्षण परिषद्
छत्तीसगढ़, शंकर नगर, रायपुर

SEAS के अभ्यास हेतु
ITEM BANK
कक्षा – 3, विषय – पर्यावरण
(Foundational Level)

निर्देश : प्रत्येक प्रश्न के उत्तर के रूप में चार विकल्प दिए गये हैं, सही विकल्प चुनकर उस पर गोला ○ का चिन्ह लगाइए -

- प्रश्न-1 इनमें से कौन सा जानवर पानी में रहता है ?
(अ) घोड़ा (ब) मछली
(स) साँप (द) खरगोश
- प्रश्न-2 निम्न में से कौन – सा जीव जाल नुमा घर बनाता है?
(अ) चींटी (ब) मकड़ी
(स) काँकरोच (द) मक्खी
- प्रश्न-3 रेंगकर चलने वाले जीवों का समूह है -
(अ) केंचुआ, साँप, छिपकली (ब) बकरी, कौवा, मछली
(स) चूहा, मेंढक, कौआ (द) चिड़िया, गिलहरी, मगरमच्छ
- प्रश्न-4 ऐसा जीव जो अन्य जीवों को खाता है -
(अ) हाथी (ब) घोड़ा
(स) शेर (द) बकरी
- प्रश्न-5 मिट्टी में कौन सा जीव अपना घर नहीं बनाता है?
(अ) चूहा (ब) साँप
(स) केंचुआ (द) कबूतर
- प्रश्न-6 "सिर पर लाल ताज है" रोज सबेरे कूकड़ –कू कर हमें जगाता है। पंक्ति सम्बंधित पक्षी है-
(अ) मोर (ब) मैना
(स) मुर्गा (द) चील
- प्रश्न-7 घोड़ा के रहने का स्थान है -
(अ) मांद (ब) भिभौरा
(स) अस्तबल (द) घोसला
- प्रश्न-8 दिए गये जीव और उनके स्वाभाव का सही जोड़ा है -
(अ) मेंढक – उड़ना (ब) साँप – रेंगना
(स) मछली – फुदकना (द) चिड़िया – तैरना
- प्रश्न-9 रीता के घर ऐसा जानवर है जो किताबों, घर के पर्दों, सब्जियों को कुतरता है और बिल्लियों को देख कर छुप जाता है-
(अ) बिल्ली (ब) कुत्ता
(स) चूहा (द) गाय

प्रश्न-10 पक्षी जिसके पंख बहुत पतले होते हैं-

- (अ) तोता (ब) चमगादड़
(स) मुर्गा (द) बत्तख

प्रश्न-11 पुलिस अपने खोजी दल में कुत्तों को उसके किस गुण के कारण रखते हैं ?

- (अ) सूँघने का गुण (ब) भौंकने का गुण
(स) दौड़ने का गुण (द) देखने का गुण

प्रश्न-12 निम्न को कम से तेज गति क्रम में उत्तर देवे-


- (अ) हवाई जहाज – मोटर – पैदल – साईकिल
(ब) साईकिल – पैदल – मोटर- हवाई जहाज
(स) मोटर- हवाई जहाज- साईकिल-पैदल
(द) पैदल – साईकिल - मोटर - हवाई जहाज

प्रश्न-13 वे साधन जिससे हम संदेश भेजते हैं एवं प्राप्त करते हैं-

- (अ) यातायात के साधन (ब) संचार के साधन
(स) प्राकृतिक संसाधन (द) मानवीय संसाधन

प्रश्न-14 कम्प्यूटर का वह भाग जिसमें लिखी गई सामग्री को पढ़ा जाता है उसे कहते हैं -

- (अ) की – बोर्ड (ब) माउस
(स) मॉनिटर (द) सीडी

प्रश्न-15 आपने सड़क पर जेब्रा क्रॉसिंग () से, कौन सा सिग्नल होने पर आप सड़क पार करेंगे -

- (अ) हरी बत्ती जलने पर (ब) पीली बत्ती जलने पर
(स) लाल बत्ती जलने पर (द) कभी भी



प्रश्न-16 यहाँ पर गाड़ियों क्यों रूकती है ?

- (अ) गाड़ी बनवाने (ब) गाड़ी में समान लोड करने
(स) पेट्रोल भरवाने (द) गाड़ी से समान उतरवाने

प्रश्न-17 कोरोना महामारी के समय जब हम घर पर रहते थे -इनमें से कौन लगातार काम कर रहे थे?

- (अ) रेजा – कुली (ब) ड्राईवर – कंडेक्टर
(स) डॉक्टर – नर्स (द) उपरोक्त सभी

प्रश्न-18 सुनीता ने गैसजलाकर एक पत्तीला रखा उसमें पानी,दूध, शक्करऔर चायपत्तीडाला और उबालकर पेयपदार्थ तैयार किया यह पेय पदार्थ है? -

- (अ) शक्कर (ब) चाय
(स) काढ़ा (द) दूध

प्रश्न-19 निम्न में से उस बर्तन की पहचान करो जिसमें सबसे अधिक पानी आ सकता है-



प्रश्न-20 चन्द्रमा की यात्रा के लिए उपयोग किया जाता है।

- (अ) हवाई जहाज (ब) स्टीमर
(स) रॉकेट (द) रेलगाड़ी

प्रश्न-21  यह जगह कौन सी है?

- (अ) पुलिस स्टेशन (ब) अस्पताल
(स) डाकघर (द) बस स्टॉप

प्रश्न-22 हवा दूषित होती है -

- (अ) कारखाने के धुएं से (ब) वाहनों के धुएं से
(स) छायादारवृक्षों से (द) A व B दोनों से

प्रश्न-23 हवा से बजने वाली वस्तु है -

- (अ) सीटी (ब) हारमोनियम
(स) बांसुरी (द) उपरोक्त सभी

प्रश्न-24 इनमें से किसका आकार हमेशा घटता - बढ़ता दिखाई देता है ?

- (अ) सूरज (ब) धरती
(स) शनि (द) चन्द्रमा

प्रश्न-25 किस समय पर हमारी छाया सबसे छोटी होती है?

- (अ) रात (ब) शाम
(स) दोपहर (द) सुबह

प्रश्न-26 हाथ को लगभग कितने समय तक अच्छे से धोना चाहिए -

- (अ) 20 सेकण्ड (ब) 30 सेकण्ड
(स) 50 सेकण्ड (द) 50 सेकण्ड

प्रश्न-27 चॉक को पानी से भरी गिलास में डूबाते हैं, तो बुलबुले निकलने लगते हैं। इसका कारण है-

- (अ) चॉक भारी होता है (ब) पानी भारी होता है
(स) चॉक में हवा भरी होती है (द) पानी हल्का होता है

प्रश्न-28 कोहरा कब दिखाई देता है?

- (अ) ठंड में (ब) गर्मी में
(स) बरसात में (द) प्रतिदिन

प्रश्न-29 कैलेंडर के आधार पर दिए गये माह में कितने सोमवार हैं?

- (अ) तीन (ब) चार
(स) पाँच (द) छः

FEBRUARY 2023						
MON	TUE	WED	THU	FRI	SAT	SUN
			01	02	03	04
						05
06	07	08	09	10	11	12
13	14	15	16	17	18	19
20	21	22	23	24	25	26
27	28					

प्रश्न-30 भाई बहन से संबंधित त्यौहार है –

- (अ) दीवाली (ब) मकर संक्रांति
(स) रक्षाबंधन (द) होली

प्रश्न-31 ऐसा त्यौहार जिसमें, क्रिसमस ट्री बनाया जाता है:-

- (अ) रक्षाबंधन (ब) ईद
(स) होली (द) क्रिसमस

प्रश्न-32 रजत के घर खाना बनाने का एक ऐसा साधन है जिसमें सूरज की रोशनी द्वारा खाना पकाते हैं। यह साधन है –

- (अ) चूल्हा (ब) गैस
(स) सोलर कुकर (द) स्टोव

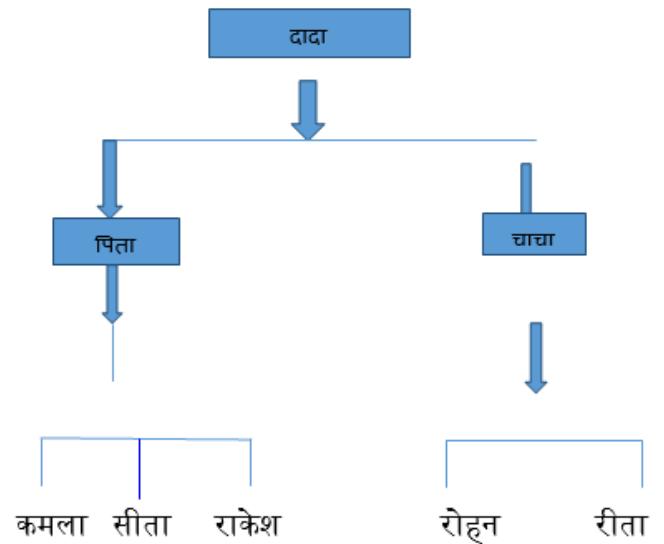
प्रश्न-33 संयुक्त परिवार में घर के सभी काम जल्दी खत्म हो जाते हैं क्योंकि -

- (अ) सब अपना - अपना काम करते हैं (ब) काम होता ही नहीं है
(स) काम कम होता है (द) काम सब मिल- बाँट कर करते हैं

प्रश्न-34 दिए गये वंश वृक्ष देख कर बताओ –

राकेश के चाचा के पुत्री का क्या नाम है ?

- (अ) सीता
(ब) कमला
(स) रीता
(द) रोहन



प्रश्न-35 छः माह से एक वर्ष की आयु के बच्चों को खाने में दिया जाना चाहिए –

- (अ) दूध (ब) रोटी, सब्जी
(स) दाल (द) उपरोक्त सभी

प्रश्न-36 निम्न में से भोजन और उसके स्रोत की कौन सी जोड़ी सही है -

- (अ) गेहूं – अंडा (ब) संतरा -पेड़
(स) अंडा –गाय (द) दूध-मुर्गी

प्रश्न-37 आम का कौन सा भाग है जिसे हम खाने में उपयोग करते हैं-

- (अ) फल (ब) फूल
(स) जड़ (द) तना

प्रश्न-38 सबसे अधिक संख्या में बीज होते हैं -

- (अ) आम (ब) सेब
(स) तेंदू (द) अमरुद

प्रश्न-39 दूध हमारे शरीर के लिए बहुत लाभदायक होता है। दूध देने वाले जानवरों का समूह है-

- (अ) गाय, बकरी (ब) ऊँट, गधा
(स) घोड़ा, ऊँट (द) गाय, बैल

प्रश्न-40 इनमें से जीवित है -

- (अ) पौधा (ब) लकड़ी
(स) बादल (द) पत्थर

प्रश्न-41 तीन जोड़ी पैर होते हैं -

- (अ) मच्छर (ब) मकड़ी
(स) चींटी (द) उपरोक्त सभी

प्रश्न-42 एक समान रंग के दिखने वाले पक्षियों का समूह है -

- (अ) तोता - मैना (ब) कोयल-कौवा
(स) गौरैया - कबूतर (द) मुर्गा - उल्लू

प्रश्न-43 ऐसे पक्षियों का समूह जो मछली खाते हैं -

- (अ) हंस - मैना (ब) कबूतर - मैना
(स) बत्तख व बगुला (द) तोता - कौवा

प्रश्न-44 दिए गए जीवों को उनके आकार के आधार पर कम से अधिक का सही क्रम है -

- (अ) चींटी, काकरोच, छिपकली (ब) काकरोच, मक्खी, मच्छर
(स) मक्खी, काकरोच, मच्छर (द) छिपकली चींटी, काकरोच

प्रश्न-45 उषा व कविता को कौव - कौव व टें-टें की आवाज़ निकालनी है। इसके लिए उनके द्वारा पक्षियों के कौन कौन से मुखौटे का उपयोग करेंगे ?

- (अ) मैना (ब) कौआ
(स) तोता (द) ब एवं स

प्रश्न-46 समूह के काम करने वाले जीवों के समूह है-

- (अ) मधुमक्खी - चींटी (ब) बिल्ली - कुत्ता
(स) चूहा - बिल्ली (द) मच्छर - मक्खी

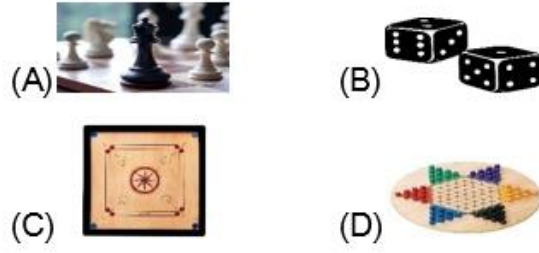
प्रश्न-47 निम्न से कौन - सा जीव भारी है ?

- (अ) गिलहरी (ब) खरगोश
(स) कुत्ता (द) हाथी

प्रश्न- 48 घर के बाहर खेले जाने वाले खेलों का समूह है-

- (अ) चौसर, क्रिकेट, हॉकी (ब) लूडो, सांप-सीड़ी, कैरम
(स) गुल्ली डंडा, क्रिकेट, खो - खो (द) शतरंज, ताश, गोटा

प्रश्न-49 शिवम पासा से अपने दोस्तों के साथ खेल रहा है यह खेल है -



प्रश्न-50 खेल एवं खिलाड़ियों की संख्या का सही जोड़ा है -

- (अ) क्रिकेट - 11 (ब) खो - खो - 07
(स) फुटबॉल - 05 (द) कबड्डी - 15

प्रश्न-51 सुशील एवं मनीष की टीम सात - सात खिलाड़ियों के साथ खेल रही है उस खेल का नाम है :-

- (अ) खो - खो (ब) क्रिकेट
(स) फुटबॉल (द) कबड्डी

प्रश्न-52 गोलू अपने दोस्तों के साथ मैदान में क्रिकेट खेल रहा था | उसने जब गेंद मारी तो वह मैदान की सीमा से बहार चली गई| बताओ गोलू को कितने रन मिलेंगे -

- (अ) 3 (ब) 4
(स) 5 (द) 2

प्रश्न-53

स्कोर बोर्ड	
सुरेश	दिनेश
1 . 1	
2 . 1	1
3 . 1	0
4 . 1	1

एक स्कूल की शिक्षिका ने बच्चों को प्रश्न मंच का खेल खिलाया था" जिसमें दो टीम थी एक टीम सुरेश की व दूसरी टीम दिनेश की टीम थी नीचे उनकी टीम के स्कोर दिए हुए है। इस आधार पर बताए कि कौन सी टीम विजेता हुई -

- (अ) सुरेश की (ब) दिनेश की
(स) दोनों बराबर (द) शिक्षिका की

प्रश्न-54 बांटी, भौरा , गुड़िया, ये किस प्रकार के खेल है -

- (अ) स्कूली खेल (ब) मैदानी खेल
(स) घरेलू खेल (द) उपरोक्त सभी

प्रश्न-55 खेल हमें सिखाता है -

- (अ) भाई चारा (ब) टीम भावना
(स) एकता (द) उपरोक्त सभी

प्रश्न-56 गेंद, रन, छक्का, एम्पायर किस खेल से सम्बंधित है –

- (अ) कबड्डी (ब) बॉलीबॉल
(स) हैंडबॉल (द) क्रिकेट

प्रश्न-57 आस-पास बहुत से कार्यों को करते हुए देखते हैं। कुछ काम अकेले होते हैं और कुछ बहुत से लोग मिलकर करते हैं इनमें से किस कार्य में एक से अधिक लोगों की आवश्यकता होगी ?

- (अ) पढ़ना, लिखना, मोबाइल चलाना (ब) टी.वी. देखना, गाना सुनना, कूदना
(स) घर बनाना, गाँव की सफाई, सड़क बनाना (द) दूध देना, सब्जी बेचना, रोटी बनाना

प्रश्न-58 मीरा अपने घर में एक पेट्री की लम्बाई को फीते से माप रही थी। वह फीता था -

- (अ) किलोग्राम (ब) थर्मामीटर
(स) मीटर (द) घड़ी

प्रश्न-59 दूध बेचने वाला दूध मापने के लिए उपयोग करता है-

- (अ) मीटर (ब) लीटर
(स) से.मी. (द) मिली मीटर

प्रश्न-60 राधा की माँ चूल्हे में खाना बना रही थी। उसके चूल्हे की पास लकड़ी, प्लास्टिक, झिल्ली मोटा कागज का टुकड़ा था। जलाने पर किस वस्तु में पहले आग लगेगी।

- (अ) लकड़ीका टुकड़ा (ब) प्लास्टिक की झिल्ली
(स) सूती का कपड़ा (द) मोटा कागज का टुकड़ा

प्रश्न-61 ऐसी वस्तु जिसे पात्र में डालने पर पात्र का आकार ले लेती है।

- (अ) धुआँ (ब) कंकड़
(स) रोटी (द) तेल

प्रश्न-62 इनमें से किसकी उपस्थिति को अनुभव करके पता लगाया जा सकता है –

- (अ) लोहा (ब) पत्थर
(स) हवा (द) कोयला

प्रश्न-63 सड़क पर गाड़ी चलाते समय गति - अवरोधक संकेत देखकर, गाड़ी चलाने वाला क्या करता है –

- (अ) गाड़ी की गति बढ़ादेंगे (ब) गाड़ी से उतर जायेंगे
(स) गाड़ी की गति कम कर देंगे (द) गाड़ी वहीं खड़ी कर देंगे

प्रश्न-64 गाड़ी चलाते समय हमें नहीं करना चाहिए –

- (अ) मोबाइल पर बात (ब) धुम्रपान
(स) तेज रफ़्तार से चलाना (द) उपरोक्त सभी


प्रश्न-65 घर का बेकार कचरा हमें फेंकना चाहिए –

- (अ) घर की नाली (ब) सड़क में
(स) कूड़ादान में (द) गली में

प्रश्न- 66 "दुर्घटना से देर भली" यह लिखा हुआ होता है -

- (A) विद्यालय में (ब) रेलवे स्टेशन
(स) अस्पताल में (द) सड़क में

प्रश्न-67 निम्न में कुएं का संकेत है -



प्रश्न-68 अगर हम किसी व्यक्ति का सड़क दुर्घटना देखते हैं तो हमें करना चाहिए-

- (अ) 108 न. परफोन करेंगे (ब) कुछ नहीं करेंगे
(स) शोर मचायेंगे (द) भाग जाएंगे

प्रश्न-69 स्कूल से घर आते समय रास्तेमें आपको एक नल दिखता है, जिससे दिन भर पानी बहता रहता है आप उसे देखकर क्या करेंगे ?

- (अ) नल को खुला रहने देंगे (ब) साथी को बताएँगे
(स) कुछ नहीं करेंगे (द) नल की टोटी बंद कर देंगे

प्रश्न-70 घर में पानी भरने की जिम्मेदारी होनी चाहिए -

- (अ) माँ की (ब) पिता की
(स) बच्चों की (द) सभी की

प्रश्न-71 जंगलो की कटाई करने से क्या होगा -

- (अ) पानी की कमी (ब) प्रदूषण फैलने लगेगा
(स) गर्मी अधिक होगी (द) उपरोक्त सभी

प्रश्न-72 आप स्कूल से घर जा रहे है आपके बोतल में पानी बचा हुआ है | आप उसे क्या करेंगे?

- (अ) पानी को कहीं भी फेंक देंगे (ब) पानी के साथ खेलेंगे
(स) पानी को पौधे में डालेंगे (द) कुछ नहीं करेंगे

प्रश्न-73 मीनू सड़क पार कर रही थी , उसने देखा एक बूढ़ी दादी भी सड़क पार करने की कोशिश कर रही थी| उसे क्या करना चाहिए -

- (अ) वहीं छोड़कर आगे जाना चाहिए (ब) हाथ पकड़कर सड़क पार करवाना चाहिए
(स) ध्यान नहीं देना चाहिए (द) हँसी उड़ना चाहिए

प्रश्न-74 राजू खेल - खेल में पानी में उछल रहे मेंढक पर पत्थर मार रहा था और वह खुश हो रहा था | उसके इस काम से -

- (अ) मेंढक को मजा आ रहा था (ब) राजू को मजा आ रहा था
(स) मेंढक को तकलीफ हो रही थी (द) राजू को अच्छा लग रहा था

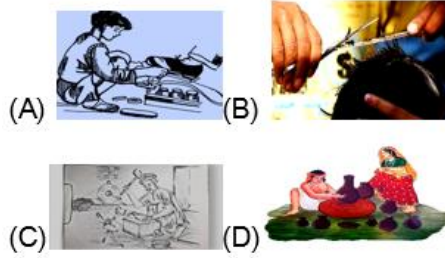
प्रश्न-75 दोनों हाथों को मिलकर कितनी उंगलियों और अंगूठे की संख्या है -



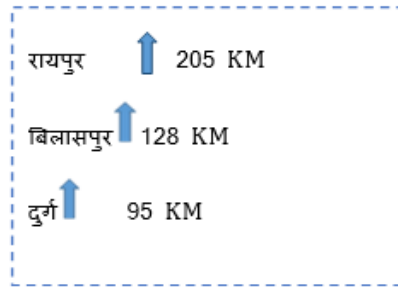
(अ) 5 उंगलियां 1 अंगूठा
(स) 8 उंगलियां 2 अंगूठा

(ब) 10 उंगलियां 2 अंगूठा
(द) 6 उंगलियां 2 अंगूठा

प्रश्न-76 मिट्टी के खिलौने बनाता है -



प्रश्न-77 इस सूचना पटल के अनुसार बिलासपुर कितनी दूरी पर है ?



(अ) 205 KM आगे
(स) 128 KM आगे

(ब) 128 KM पीछे
(द) 95KM आगे

प्रश्न-78 स्वस्थ रहने के लिए हमें खाना चाहिए -

(अ) बासी भोजन
(स) तला भोजन

(ब) ताजा भोजन
(द) कुछ भी नहीं

प्रश्न-79 आपके घर में यदि किसी को दस्त हो रहा है , तो उसे पिलायेंगे -

(अ) चाय
(स) दूध

(ब) कॉफ़ी
(द) ओ.आर.एस.घोल

प्रश्न-80 पुराने समय में मिट्टी के बर्तनों का उपयोग किया जाता था, क्योंकि वे -

(अ) स्वास्थ्य वर्धक होते थे
(स) बहुत महंगे थे

(ब) स्वास्थ्य के लिए अच्छे नहीं थे
(द) आसानी से मिलते थे

प्रश्न-81 निम्न में से कौनसा काम पुलिस नहीं करती -

(अ) सार्वजनिक संपत्ति का बचाव
(स) भीड़ को संभालना

(ब) नियम व कानून का पालन
(द) उधार में पैसे देना

प्रश्न-82 कौन सा कार्ड हम 18 वर्ष की उम्र के बाद ही प्राप्त कर सकते हैं ?

- (अ) आधार कार्ड (ब) राशन कार्ड
(स) वोटरकार्ड (द) टीकाकरण कार्ड

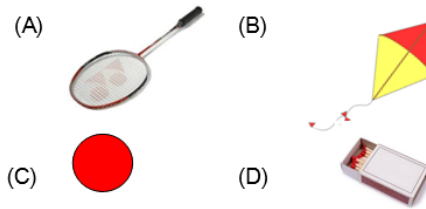
प्रश्न-83 दिन की अवस्था का सही क्रम है -

- (अ) सुबह, दोपहर, शाम (ब) सुबह, शाम, दोपहर
(स) दोपहर, शाम, सुबह (द) शाम, सुबह, दोपहर

प्रश्न-84 पेड़ - पौधे लगाने से -

- (अ) मिट्टी बह जाती है (ब) मिट्टी खराब हो जाती है
(स) मिट्टी नहीं बहती है (द) पर्यावरण बिगड़ता है

प्रश्न-85 इनमें से किसका उपयोग खेलने के लिए नहीं किया जाता है ?



प्रश्न-86 यह चित्र किस मौसम से संबंधित है?



- (अ) ठंड (ब) बरसात
(स) गर्मी (द) बसंत

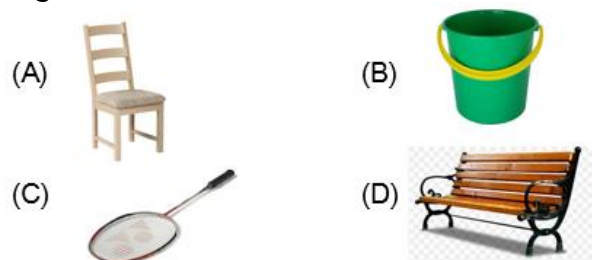
प्रश्न-87. गर्मी के दिनों में किस रंग के कपड़े पहनना चाहिए?

- (अ) सफ़ेद (ब) काला
(स) नीला (द) हरा

प्रश्न-88. बरसात के दिनों में किसान क्या काम करते हैं?

- (अ) फसल की मिनजाई करते हैं। (ब) आराम करते हैं।
(स) फसलों के बुवाई करते हैं। (द) फसल कटते हैं।

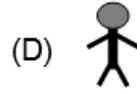
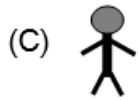
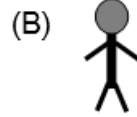
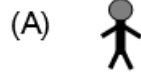
प्रश्न-89. इनमें से कौन सी वस्तु खेलने के लिए उपयोग में लाई जाती है?



प्रश्न-90. इनमें से किसकी आंखे बड़ी हैं?



प्रश्न-91. इन चित्रों में कौन-सा चित्र लंबा है ?



प्रश्न-92. इनमें से हाथी के पैर कौन-से हैं ?



प्रश्न-93.



यह किस जानवर के पैर का चित्र है -

- (अ) घोड़े का
(स) गाय का

- (ब) बकरी का
(द) मोर का

प्रश्न-94. नाक के हम क्या काम करते हैं?

- (अ) सूंघना
(स) सुनना

- (ब) बोलना
(द) खाना

प्रश्न-95. किसी बच्चे व बुजुर्ग के शरीर में इनमें से कौन सा अंतर दिखाई देता है?

- (अ) चेहरे की झुर्रियाँ
(स) दो आंखे

- (ब) दो कान
(द) उंगलियाँ

प्रश्न-96. एक जैसे होते हुये बुजुर्ग के शरीर में इनमें से कौन-सा अंतर दिखाई देता है?

- (अ) बाल
(स) नाक की बनावट

- (ब) उंगलियों के निशान
(द) दांतों की संख्या

प्रश्न-97. इनमें से किनके चेहरों में समानता हो सकती है?

(अ) भाई-बहन

(ब) माता-पिता

(स) चाचा-चाची

(द) दादा-दादी

प्रश्न-98. अंडे देने वाले जीवों का समूह कौन-सा है?

(अ) गाय, भैंस, बकरी

(ब) चूहा, बिल्ली, कुत्ता

(स) मुर्गी, बत्तख, गौरैया

(द) शेर, भालू, ऊँट

प्रश्न-99. मनुष्य की आवाज को नकल कर सकने वाला पक्षी कौन-सा है?

(अ) तोता

(ब) मोर

(स) कोयल

(द) कौआ

प्रश्न-100. ऐसे पेड़-पौधे जिनका पत्तियों का उपयोग हम खाने के लिए करते हैं?

(अ) पालक

(ब) बरगद

(स) कनेर

(द) बबूल

विषय – पर्यावरण कक्षा 3
उत्तरमाला

Q.No	Key	Q.No	Key	Q.No	Key	Q.No	Key
1	ब	26	अ	51	द	76	द
2	ब	27	स	52	ब	77	ब
3	अ	28	अ	53	अ	78	ब
4	स	29	ब	54	स	79	द
5	द	30	स	55	द	80	द
6	स	31	द	56	द	81	द
7	स	32	स	57	स	82	स
8	स	33	द	58	स	83	अ
9	स	34	स	59	ब	84	स
10	स	35	द	60	ब	85	द
11	अ	36	ब	61	द	86	अ
12	द	37	अ	62	स	87	अ
13	ब	38	द	63	अ	88	स
14	स	39	अ	64	द	89	स
15	स	40	अ	65	स	90	स
16	स	41	द	66	द	91	ब
17	स	42	ब	67	द	92	अ
18	ब	43	स	68	अ	93	ब
19	द	44	अ	69	द	94	अ
20	स	45	द	70	द	95	अ
21	द	46	अ	71	द	96	अ
22	द	47	द	72	स	97	अ
23	द	48	स	73	ब	98	स
24	द	49	ब	74	स	99	अ
25	स	50	अ	75	स	100	अ

